




## ニューマテリアル・デザイン クイズ VIII(溶体と混合物) (回答用紙)

学籍番号：

氏名：

- I. 今日の授業のマインドマップを裏面にまとめよ.
- II. 溶体と混合物の違いを述べよ. 下図も使え.
- III. 温度について知るところを述べよ.

 $\Omega < 0$  $\Omega > 0$  $\Omega \approx 0$ 

$\Omega$  が負, 正あるいはほぼゼロの場合の A, B 原子の分布の様子.